

## **SVĚTOVÉ STRANY**

### *Obsahový cíl:*

- Žák rozpozná světové strany a jejich označení.
- Žák se orientuje v mapě v rámci světových stran.
- Žák určí, na které světové straně leží konkrétní město v ČR.

### *Jazykový cíl:*

- Žák pojmenovává světové strany.
- Žák umí vytvořit a použít adjektiva odvozená od názvů světových stran.


### *Slovní zásoba:*

světová strana, sever/ní, jih/jižní, východ/ní, západ/ní, severovýchod/ní, severozápad/ní, jihovýchod/ní, jihozápad/ní, střed/ní

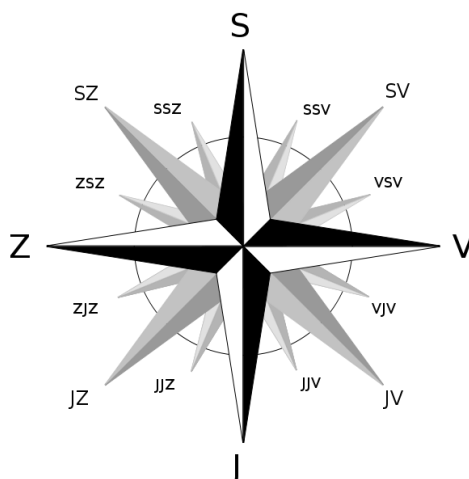
## SVĚTOVÉ STRANY

### 1. Odpovězte na otázky:

- Co je svět? Jaké znáte země?
- Co je strana? Jaké znáte?
- Co je na obrázcích?



- Co je světová strana? Jak se jmenují?
- Zkuste doplnit na obrázek světové strany. Pomůže vám písmeno:



### 2. Doplněte do tabulky názvy a zkratky světových stran:

severovýchod	SV
jihozápad	
	J
západ	
jihovýchod	
	SZ
	S
východ	

### Jak se tvoří přídavné jméno?

jih + západ = <b>jihozápad</b> , přídavné jméno = +NÍ = <b>JIHOZÁPADNÍ</b>
<b>sever</b> , přídavné jméno = sever + NÍ = <b>SEVERNÍ</b>
pozor! <b>jih</b> , přídavné jméno = jih + NÍ = <b>JIŽNÍ</b>
<b>střed</b> , přídavné jméno = střed + NÍ = <b>střední</b> (střední Čechy)

### 3a. Doplňte přídavná jména:

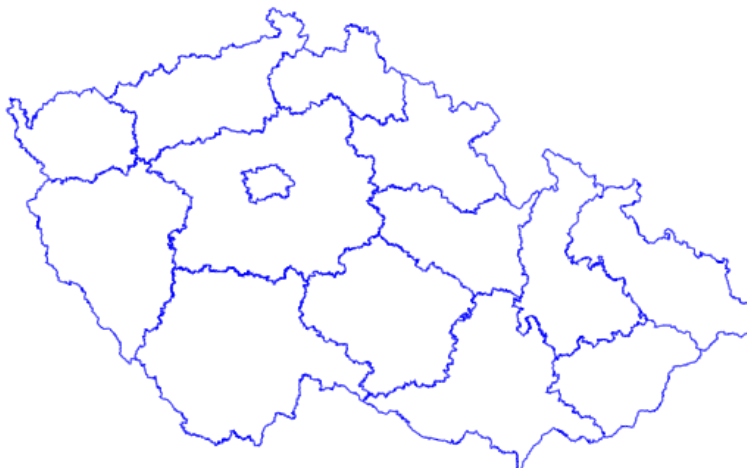
východ - ..... severozápad - .....

jih - ..... jihovýchod - .....

### 3b. Zakreslete s pomocí atlasu do mapky následující města. Napište, na které světové straně leží.

Praha, Brno, Ostrava, Plzeň, Pardubice, České Budějovice, Zlín, Olomouc, Liberec, Ústí nad Labem, Hradec Králové, Karlovy Vary

příklad: *Pardubice: východní Čechy, Zlín: jihovýchodní Morava, střed: střední Čechy*



- ..... : .....
- ..... : .....
- ..... : .....
- ..... : .....
- ..... : .....
- ..... : .....
- ..... : .....
- ..... : .....
- ..... : .....
- ..... : .....
- ..... : .....
- ..... : .....
- ..... : .....
- ..... : .....

Dostupné z portálu [www.inkluzivniskola.cz](http://www.inkluzivniskola.cz), vytvořeného společností META, o.p.s. za finanční podpory Ministerstva školství, mládeže a tělovýchovy ČR. Provoz portálu je spolufinancován z prostředků Evropského fondu pro integraci státních příslušníků třetích zemí.



## Použité zdroje

### **Obrázky:**

[cit. 2017-03-26]. Dostupný pod licencí Public domain a Creative Commons na WWW:

< [https://commons.wikimedia.org/wiki/File:%C4%8CR\\_kraje\\_2005.svg](https://commons.wikimedia.org/wiki/File:%C4%8CR_kraje_2005.svg) >

< [https://commons.wikimedia.org/wiki/File:Brosen\\_windrose\\_SLO.svg](https://commons.wikimedia.org/wiki/File:Brosen_windrose_SLO.svg) >

< <https://pixabay.com/cs/kniha-bible-text-literatura-2073023/> >

< [https://commons.wikimedia.org/wiki/File:Karlov\\_most\\_-\\_mala\\_strana.jpg](https://commons.wikimedia.org/wiki/File:Karlov_most_-_mala_strana.jpg) >