

ORIENTACE NA MAPĚ

Obsahový cíl:

- žák si osvojí základní slovní zásobu pro orientaci na mapě
- pozná základní i vedlejší světové strany
- vyhledává na mapě příklady ostrovů, poloostrovů, oceánů apod.
- vyhledává na mapě státy Evropy a města České republiky, správně je řadí na světové strany
- doplňuje slovní zásobu k obrázkům

Jazykový cíl:

- žák s pomocí formuluje celé věty o poloze států/měst
- doplňuje vhodná slova k obrázkům
- vymýšlí vlastní příklady formulace vět
- popisuje nějaký útvar (moře, stát, řeku apod.) na základě jeho polohy
- používá odborný jazyk

Slovní zásoba:

Kompas, globus, atlas, mapa, moře, hora (hory, pohoří), oceán, světadíl, ostrov, poloostrov, řeka, jezero, nížina, polokoule, sever, jih, východ, západ, severozápad, severovýchod, jihozápad, jihovýchod, Afrika, Austrálie, Amerika, Asie, Antarktida, Evropa, severní, jižní, východní, západní,

Jazykové prostředky:

...leží na jihu/sever/východě/západě Evropy/Čech; je to jižní/severní/východní, západní Evropa, jsou to jižní/severní/východní, západní Čechy; ...se nachází na severu/jihu/východě/západě Čech. Na sever/jih/východ/západ od.... leží ...

Tip: Zahrajte si s dětmi poznávací hru: Co je to?

Používejte mapu.

Předem napište na viditelné místo fráze, které budou děti používat pro popis:

- *Je to město/stát/moře/hora....*
- *Nachází se na severní/jižní polokouli...*
- *Leží na sever/jih/východ/západ od....*
- *Co to je? To je...*

Dostupné z portálu www.inkluzivniskola.cz, vytvořeného společností META, o.p.s. za finanční podpory Ministerstva školství, mládeže a tělovýchovy ČR. Provoz portálu je spolufinancován z prostředků Evropského fondu pro integraci státních příslušníků třetích zemí.



MINISTERSTVO VNITRA
ČESKÉ REPUBLIKY

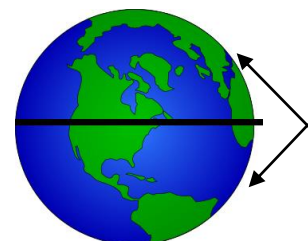



Orientace na mapě

1. **Doplňte k obrázkům slova:** GLOBUS MAPA KOMPAS ATLAS

 _ O _ _ _	 _ _ _ U _	 _ _ L _ _	 M _ _ _
--	--	---	--

2. **Spojte obrázky se slovy**



- moře
- hora (hory, pohorí)
- oceán
- světadíl
- ostrov
- poloostrov
- řeka
- jezero
- nížina
- polokoule

Dostupné z portálu www.inkluzivniskola.cz, vytvořeného společností META, o.p.s. za finanční podpory Ministerstva školství, mládeže a tělovýchovy ČR. Provoz portálu je spolufinancován z prostředků Evropského fondu pro integraci státních příslušníků třetích zemí.



MINISTERSTVO VNITRA
ČESKÉ REPUBLIKY



3. Na mapě Ameriky najděte ke každému slovu konkrétní příklad.

Příklad: moře – Karibské moře

<i>ostrov -</i>	<i>poloostrov -</i>
<i>hora (hory, pohoří) -</i>	<i>řeka -</i>
<i>oceán -</i>	<i>jezero -</i>
<i>polokoule -</i>	<i>nížina -</i>

4. Na mapě najděte a vybarvěte různými barvami světadíly:

Afrika, Austrálie, Amerika, Asie, Antarktida, Evropa



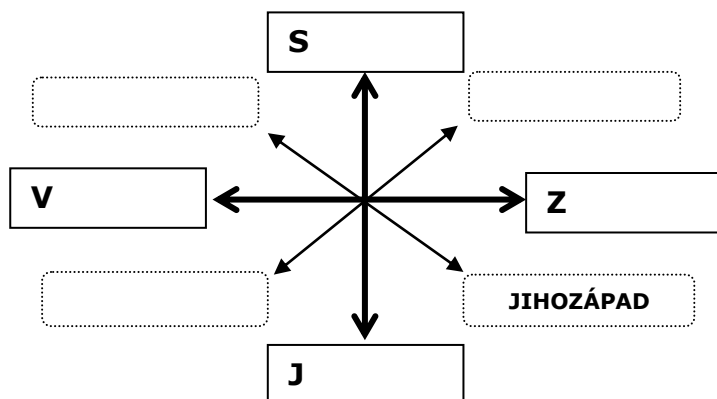
5. Který světadíl na obrázku chybí? Dokreslete ho.

6. Dopište k obrázku světové strany



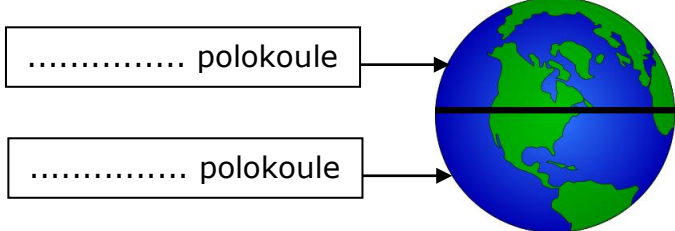
*sever, jih, východ, západ
severozápad, severovýchod,
jihozápad, jihovýchod*

Kde leží? Kde se nachází?	
NA SEVERU	NA VÝCHODĚ
NA JIHU	NA ZÁPADĚ



Dostupné z portálu www.inkluzivniskola.cz, vytvořeného společností META, o.p.s. za finanční podpory Ministerstva školství, mládeže a tělovýchovy ČR. Provoz portálu je spolufinancován z prostředků Evropského fondu pro integraci státních příslušníků třetích zemí.

Jaký? Jaká? Jaké?	
SEVERNÍ	VÝCHODNÍ
JIŽNÍ	ZÁPADNÍ



7. Doplňte označení polokoulí.

8. Podle mapy doplňte následující věty.

Použijte fráze: *leží na / se nachází na*

*Příklad: Itálie leží na jihu Evropy. Je to jižní Evropa.
Liberec se nachází na severu Čech. Jsou to severní Čechy.*

Norsko Evropy. Je to

České Budějovice Čech. Jsou to

Ukrajina Evropy. Je to

Aš Čech. Jsou to

Velká Británie Evropy. Je to

Ústí nad Labem Čech. Jsou to

9. Podle mapy doplňte světové strany.

Příklad: Na východ od Prahy leží Karlovy Vary.

Naod Českých Budějovic leží Praha.

Na od Jihlavy leží Brno.

Na od Ostravy leží Olomouc.

Na od Pardubic leží Hradec Králové.

10. Vymyslete další příklady:

.....

.....

Dostupné z portálu www.inkluzivniskola.cz, vytvořeného společností META, o.p.s. za finanční podpory Ministerstva školství, mládeže a tělovýchovy ČR. Provoz portálu je spolufinancován z prostředků Evropského fondu pro integraci státních příslušníků třetích zemí.



MINISTERSTVO VNITRA
ČESKÉ REPUBLIKY



Použité zdroje:

Obrázky:

[cit. 2017-11-30] Dostupný pod licencí Public domain a Creative Commons na WWW:

<<http://www.freestockphotos.biz/stockphoto/16836>>

<<http://www.publicdomainpictures.net/view-image.php?image=45394&picture=globe>>

<<http://maxpixel.freegreatpicture.com/Pages-Compass-World-Book-Sheets-Travel-Atlas-Map-2572025>>

<<https://pxhere.com/en/photo/1169017>>

<<https://pixabay.com/cs/mapa-sv%C4%9Bt-mundi-zem%C4%9B-kontinenty-2831458/>>

<http://commons.wikimedia.org/wiki/Category:Lakes_of_Iceland#/media/File:Sn%C3%A6fellsj%C3%B6kull_in_the_Morning_%287622876302%29.jpg>

<<https://pxhere.com/en/photo/1193444>>

<http://cs.wikipedia.org/wiki/Kontinent#/media/File:Continents_vide_couleurs.png>

<https://commons.wikimedia.org/wiki/File:Wave_open_sea.jpg>

<http://cs.wikipedia.org/wiki/N%C3%AD%C5%BEina#/media/File:Zahorska_lowland_01.jpg>

<http://upload.wikimedia.org/wikipedia/commons/3/3f/Tichy_ocean.png>

<<http://www.clker.com/clipart-2172.html>>

<http://cs.wikipedia.org/wiki/%C5%98eka#/media/File:Grand_Tetons11.jpg>

<http://cs.wikipedia.org/wiki/Ostrov#/media/File:Nasa_world_wind_-_teneriffa.jpg>

<http://cs.wikipedia.org/wiki/Poloostrov#/media/File:Arabian_Peninsula_dust_SeaWiF_S.jpg>

Dostupné z portálu www.inkluzivniskola.cz, vytvořeného společností META, o.p.s. za finanční podpory Ministerstva školství, mládeže a tělovýchovy ČR. Provoz portálu je spolufinancován z prostředků Evropského fondu pro integraci státních příslušníků třetích zemí.



MINISTERSTVO VNITRA
ČESKÉ REPUBLIKY

